


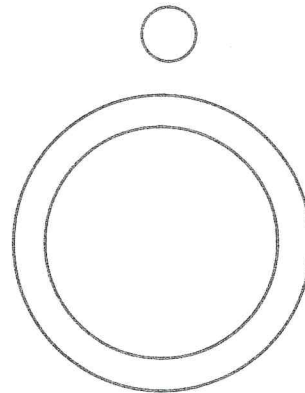
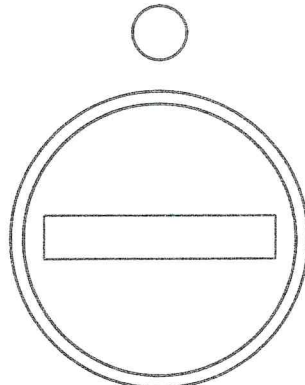



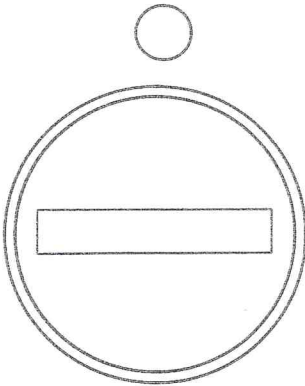


WO DARF ICH ÜBERALL FAHREN?

Es gibt so viele Straßen, dazu noch jede Menge Verkehrszeichen!

Male zunächst die Verkehrs-schilder in den richtigen Farben an!

Kennzeichne dann die Felder über den Verkehrszeichen in der richtigen Farbe! Rot: Hier darf ich nicht fahren. Gelb: Hier darf ich fahren. Grün: Hier muss ich fahren.



___ / 10 Punkte



Wenn Radwege auf beiden Seiten vorhanden sind, musst du den auf der rechten Seite benutzen. Einen linken Radweg musst du benutzen, wenn auf deiner Seite keiner vorhanden ist und der linke Radweg in deiner Fahrtrichtung mit einem blauen Radwegschild gekennzeichnet ist.